

## Opgave 8 – Leefomgeving: Strijp S in Eindhoven

---

*Bestudeer de bronnen 1 en 2 uit het bronnenboekje die bij deze opgave horen.*

*Gebruik bron 1.*

In deze bron worden drie onderdelen van Philips genoemd: het hoofdkantoor, de onderzoek- en ontwerpafdelingen en de fabrieken.

- 3p **31** Noteer deze drie onderdelen op je antwoordblad.  
Geef bij elk onderdeel aan waarom dit onderdeel wel of niet uit Eindhoven verplaatst is.

*Gebruik de bronnen 1 en 2.*

Het terrein Strijp S wordt herontwikkeld van een gebied met een industriële functie naar een gebied met een mix van functies. Eén kenmerk dat het terrein hiervoor geschikt maakt, is de nabijheid van een station en goede uitvalswegen waardoor Strijp S goed bereikbaar is.

- 2p **32** Geef twee andere kenmerken die het terrein geschikt maken voor de nieuwe mix van functies.

*Gebruik de bronnen 1 en 2.*

- 1p **33** Geef het begrip dat van toepassing is op de verandering die in Strijp S plaatsvindt.

*Gebruik de bronnen 1 en 2 en atlaskaart 63C.*

In de periode 1997-2010 vond in Eindhoven een demografische ontwikkeling plaats, die door te trekken is tot op de dag van vandaag. De verandering in Strijp S sluit aan bij deze demografische ontwikkeling.

- 2p **34** Geef aan
- welke demografische ontwikkeling in de periode 1997-2010 in Eindhoven plaatsvond;
  - dat de verandering in Strijp S aansluit bij deze demografische ontwikkeling.

## Opgave 8 – Leefomgeving: Strijp S in Eindhoven

bron 1

### **Strijp S, een voormalig industrieterrein van Philips in Eindhoven**

De sterke groei van Eindhoven in de twintigste eeuw is vooral te danken aan de vestiging van Philips. In 1918 had Eindhoven nog maar 6.400 inwoners. In 1920 telde Eindhoven, mede door de samenvoeging met enkele aangrenzende dorpen, 45.000 inwoners. In 1930 had de stad ruim 95.000 inwoners. Tegenwoordig is Eindhoven met meer dan 200.000 inwoners de vijfde stad van Nederland.

Vanaf ongeveer 1980 zijn veel Philipsfabrieken uit Eindhoven verdwenen. Door het vertrek van werkgelegenheid werd economisch verval verwacht, maar dat gebeurde niet. Sterker nog, op de 'High Tech Campus' ontstond een concentratie van bedrijven en kennisinstututen die zich richten op onderzoek en het ontwerpen van nieuwe producten.

Aan het einde van de jaren '90 werd het hoofdkantoor van Philips verplaatst van Eindhoven naar Amsterdam.

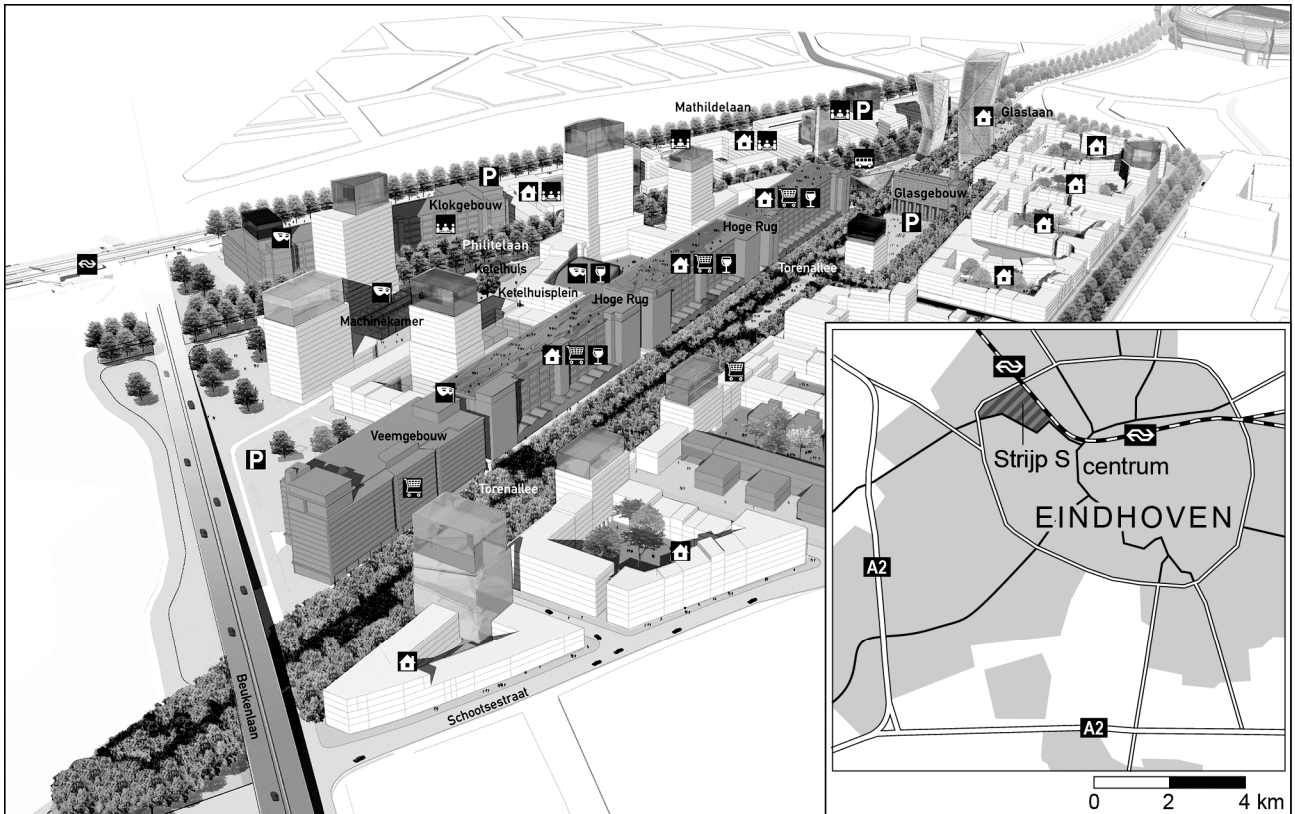
Strijp S is de naam van een voormalig fabrieksterrein van Philips. Op dit terrein staan enkele monumentale fabriekspanden. Het terrein van 27 hectare groot wordt veranderd in een wijk waar wonen en werken gecombineerd worden met cultuur en creativiteit.

### **Luchtfoto van Strijp S**



bron 2

## Stedenbouwkundig plan Strijp S



Legenda:

 bestaande bouw

 wonen


 cultuur


 winkelen

 NS station

 nieuwbouw

 kantoren

 parkeren

 openbaar vervoer

 horeca

### Bronvermelding

Een opsomming van de in dit examen gebruikte bronnen, zoals teksten en afbeeldingen, is te vinden in het bij dit examen behorende correctievoorschrift, dat na afloop van het examen wordt gepubliceerd.